

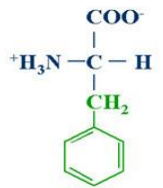
(4)

التقدير الكمي للبروتينات

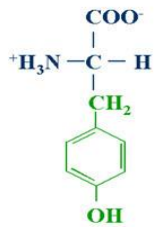
Quantitative estimation of proteins

التقدير الكمي للبروتين (Quantitative estimation of proteins) :

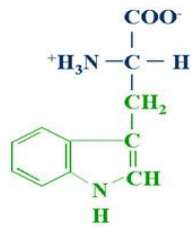
- تقدير البروتينات كمياً يساعد على معرفة التراكيز القياسية لبروتينات معينة كما أن له دلالات تشخيصية عند ارتفاع أو انخفاض تركيز البروتينات عن المستوى الطبيعي، وله أهمية في معرفة المحتوى البروتيني للعينات الغذائية.
- تعتبر مقدرة الجزيئات على امتصاص أطيايف الضوء من أكثر الطرق الكيموحيوية المستخدمة في تقدير كميات الجزيئات في محاليلها، ومن هذه الجزيئات المهمة على مستوى الخلية الحية هي البروتينات التي لها القدرة على الإمتصاص الضوئي لوجود بعض الأحماض الأمينية الحلقية العطرية (**فينايل ألانين - تيروسين - تربتوفان**).
- هناك أجهزة خاصة لقياس امتصاص الطيف الضوئي تسمى سبكتروفوتوميتر (spectrophotometer) يمكن من خلالها تقدير البروتينات عند طول موجي معين.



Phenylalanine



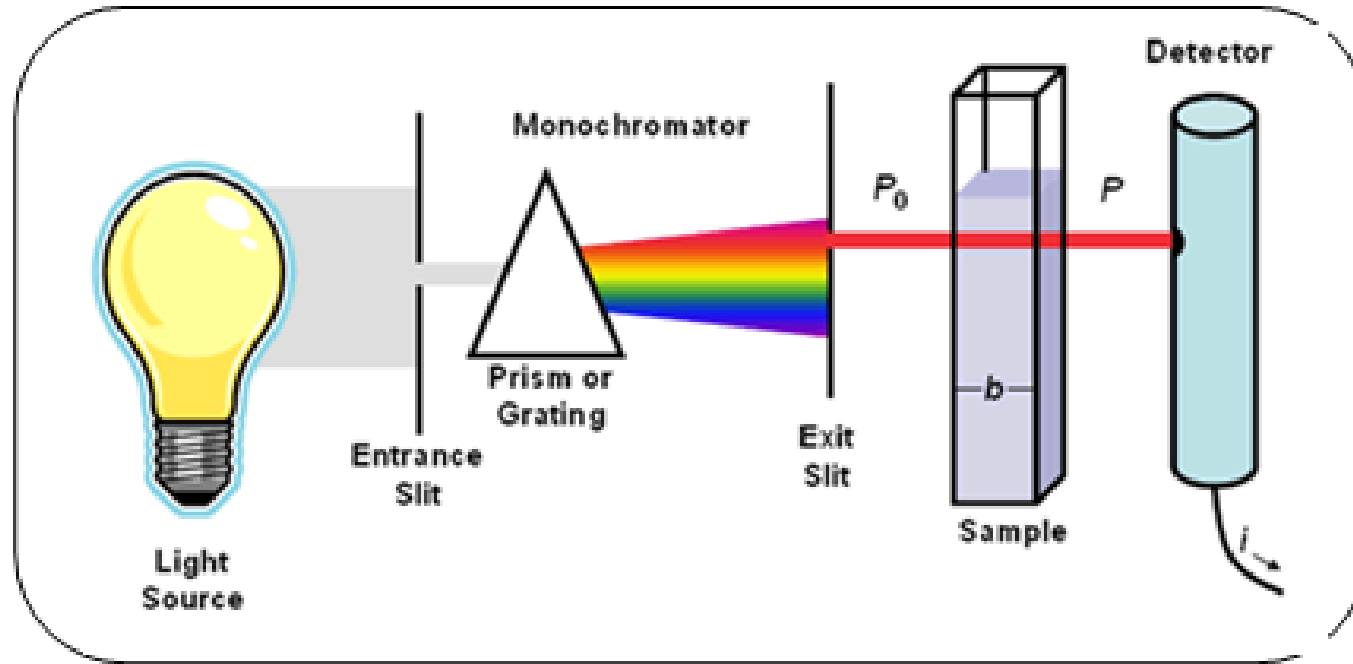
Tyrosine



Tryptophan



جهاز المطياف الضوئي (spectrophotometer)



الجزء العملي

طريقة بيوريت لتقدير تركيز البروتين (Biuret test) :

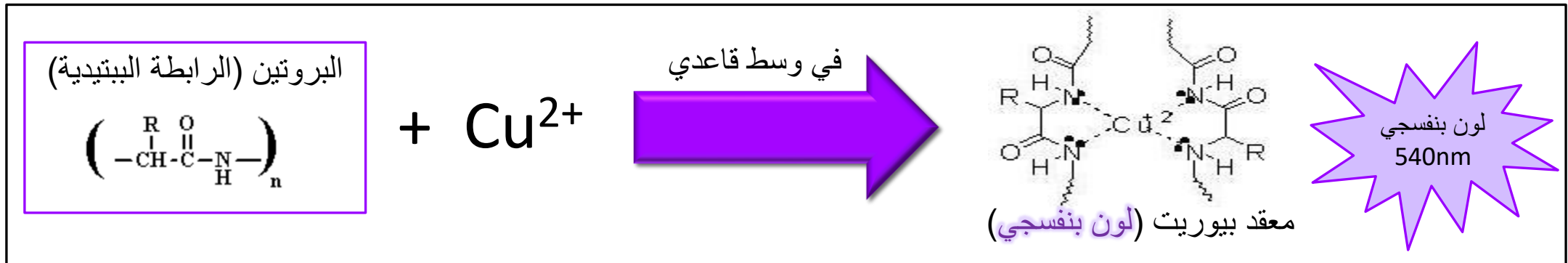
- اختبار عام يهدف للكشف عن وجود البروتينات في العينة ويمكن استخدامه كاختبار **كمي أو نوعي** للبروتينات.

النظرية العلمية للاختبار:

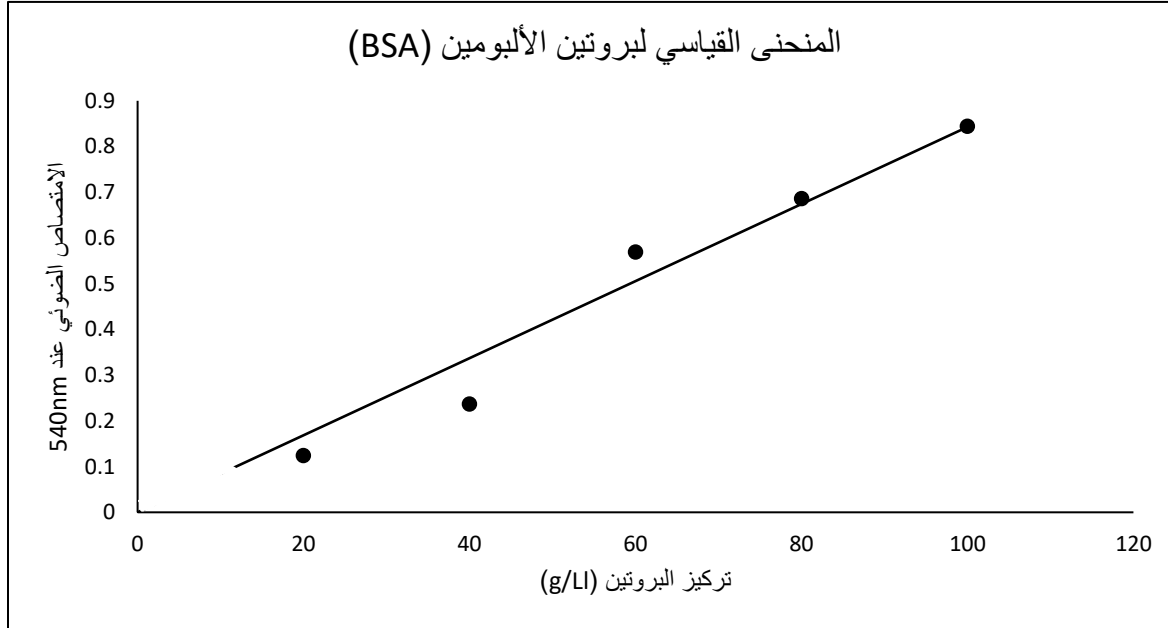
عند معالجة البروتين بمحلول **كبريتات النحاس في وسط قاعدي** فإن أيون النحاسيك يكون معقداً **بنفسجياً** مع الرابطة الببتيدية في البروتين ويسمى معقد بيوريت و يمكن قياس الإمتصاص الضوئي له عند 540 nm .

ملاحظة:

العينات ذات التراكيز الأعلى ← **اللون الأعمق (زيادة كثافة اللون)** ← تمتلك قيمة امتصاص الأعلى.
(علاقة طردية بين تركيز البروتين واللون البنفسجي وقيمة الامتصاص)



- و لتقدير البروتينات مجهولة التركيز، يجب إجراء **منحنى قياسي** (standard curve) لبروتينات **معلومة التركيز** (محاليل قياسية).
- **المنحنى القياسي** : هو منحنى يعكس العلاقة بين **تركيز معلومة** لمادة (البروتين) و **الامتصاص الضوئي** لهذه التركيز عند **طول موجي معين**.
- يمكن من المنحنى القياسي حساب تركيز البروتينات المجهولة بمعرفة مقدار الامتصاص الضوئي لها (عملية الإسقاط).



يظهر المنحنى علاقة طردية (خطية) بين تركيز البروتين و الامتصاص الضوئي. كلما زاد التركيز ، كلما زاد الامتصاص-

الأهداف:

1. التقدير الكمي للبروتينات باستخدام اختبار بيوريت.
2. إيجاد تركيز عينة مجهولة باستخدام المنحنى القياسي للتركيز (بدلالة قيمة الامتصاص).

طريقة العمل:

جهزي 8 أنابيب اختبار واتبعي الجدول التالي :

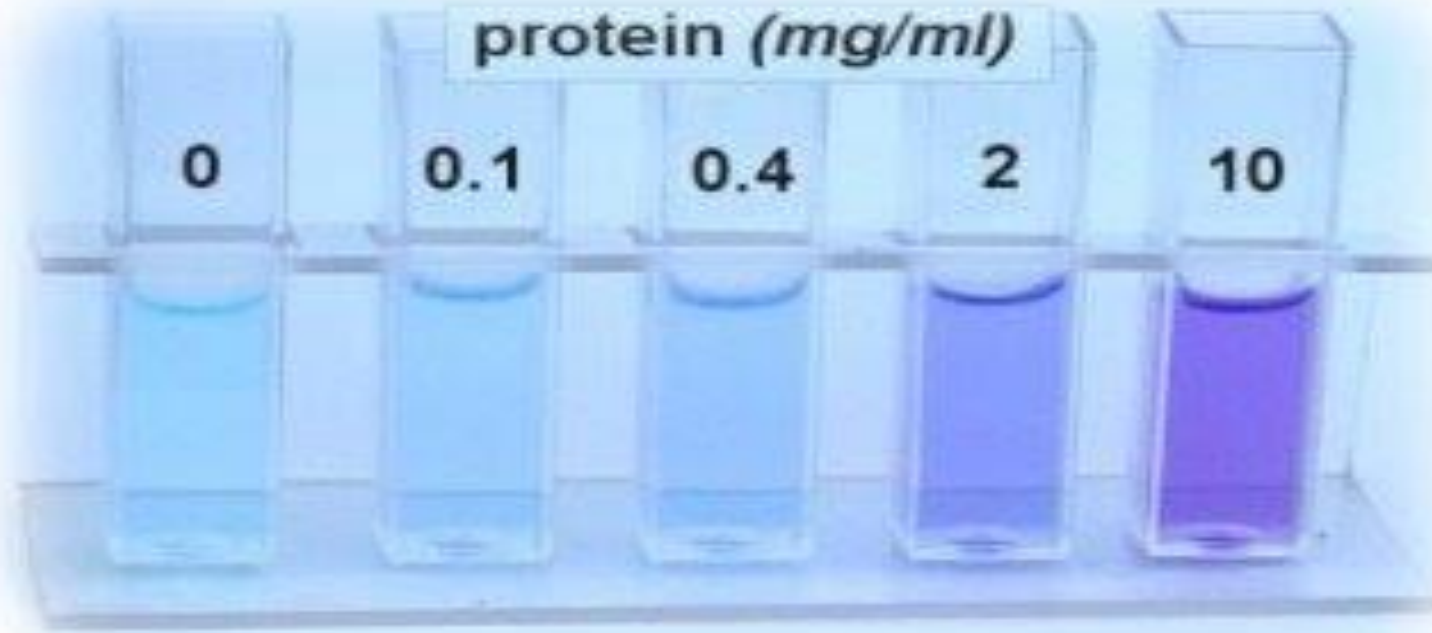
تخفيفات لبروتين
تركيزه
(5g/L)

كاشف بيوريت (مل)	حجم العينة المجهولة (مل)	ماء مقطر (مل)	حجم المحلول القياسي (الألبومين) (مل) (5g/L)	الأنبوبة
3 ml	-	2	-	Blank
	-	1.6	0.4	1
	-	1.2	0.8	2
	-	1	1	3
	-	0.8	1.2	4
	-	0.6	1.4	5
	-	0.4	1.6	6
	2	-	-	العينة ذات التركيز المجهول

- دعي الأنابيب في الحامل لمدة عشر دقائق.

- اقرئي الامتصاص عند 540 nm .

تدرج الألوان يبدأ من اللون **الأخف** (التركيز الأقل) وينتهي باللون **الأغمق** (التركيز الأعلى)



التركيز الأقل



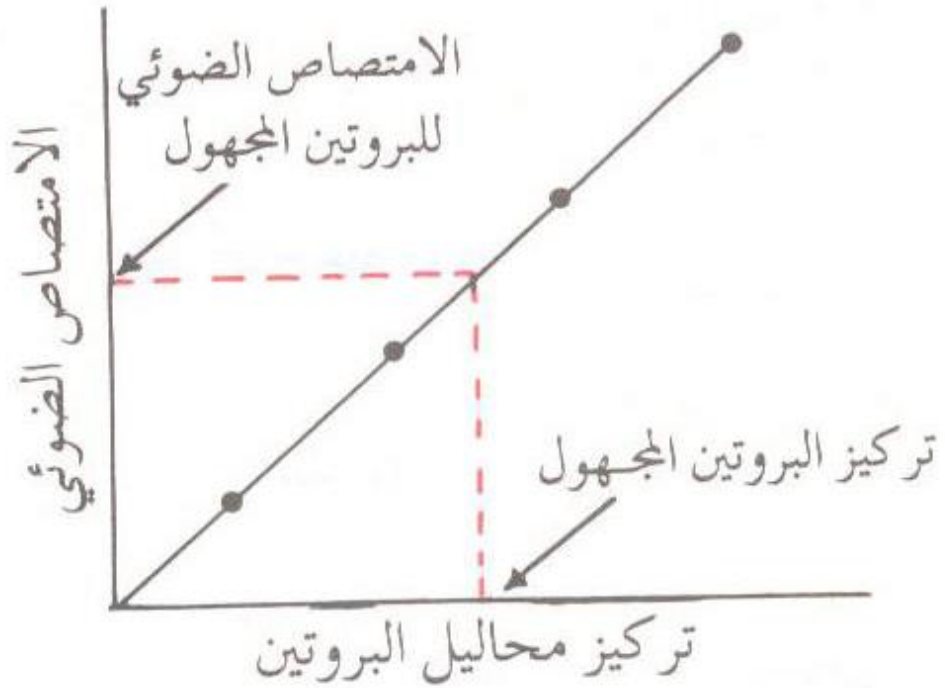
التركيز الأعلى



تزداد قيمة الامتصاص

النتائج:

- ارسمي منحنى قياسي باستخدام برنامج اكسل يوضح العلاقة بين تركيز البروتين (المحور السيني) و الامتصاص الضوئي (المحور الصادي).
- أوجدي من الرسم البياني تركيز محلول البروتين المجهول وذلك بمعلومية الامتصاص الضوئي له.



الأنبوبة	الامتصاص الضوئي عند 540nm	تركيز البروتين (g/l)
1		$C1 \times V1 = C2 \times V2$ $5 \times 0.4 = ? \times 2$ $? = 1$
2		2
3		2.5
4		3
5		3.5
6		4
العينة المجهولة		?