

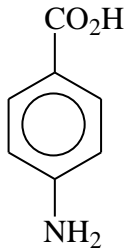
اسم الطالب :

الاختبار الفصلي الثاني في المقرر ٢٤٠ كيم

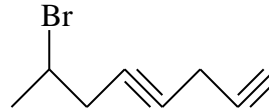
الرقم الجامعي :

الفصل الدراسي الأول ١٤٣٦ / ١٤٣٧ هـ

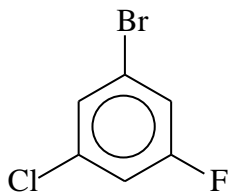
السؤال الأول:- اكتب اسم IUPAC أو ارسم الصيغ للمركبات التالية :-



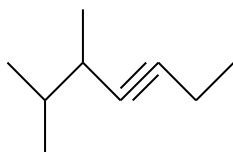
3,4-Dinitrophenol



4-Ethyl-2-hexyne



3-Nitroaniline



4,5-Dibromo-2-pentyne

السؤال الثاني :- اكمل المعادلات التالية :-

