

## الواجب الثاني

عزيزتي الطالبة:

يرجى حل جميع الأسئلة وتسليم الواجب في موعد أقصاه يوم الثلاثاء  
1441/7/15 هـ الموافق 2020/3/10 م

السؤال الأول:

يوضح الجدول التالي المنفعة الكلية للمستهلكة هيفاء من القهوة والكعك كالتالي:

$MU_y \backslash P_{2y}$ (باستخدام سعر Y الجديد 2)	$MU_y \backslash P_y$	$MU_x \backslash P_x$	المنفعة الحدية من السلعة Y ( $MU_y$ )	المنفعة الحدية من السلعة X ( $MU_x$ )	المنفعة الكلية من السلعة Y ( $TU_y$ )	المنفعة الكلية من السلعة X ( $TU_x$ )	عدد الوحدات المستهلكة من X، Y
-	-	-	-	-	١٢	١٠	١
٤	٢	٣	٨	٦	٢٠	١٦	٢
٣,٥	١,٧٥	٢,٥	٧	٥	٢٧	٢١	٣
٣	١,٥	٢	٦	٤	٣٣	٢٥	٤
١	٠,٥	١	٢	٢	٣٥	٢٧	٥
٠	٠	٠,٥	٠	١	٣٥	٢٨	٦
١-	٠,٥-	٠	٢-	٠	٣٣	٢٨	٧
٠,٥-	٠,٢٥-	١-	١-	٢-	٣٢	٢٦	٨

حيث تمثل السلعة X القهوة وتمثل السلعة Y الكعك:

المطلوب:

- أوجدي المنفعة الحدية لهيفاء لكل من السلعتين. وماهي الكميات التي سوف تستهلكها المستهلك إذا كانت السلعتين مجانييتين؟ (اكتبي شرط التوازن) في حال كانت السلعة مجانية، فإن هيفاء تستهلك إلى حد الإشباع أي إلى أن تساوي المنفعة الحدية = ٠ ( $MU=0$ ). أي أنها تستهلك Y وحدات من القهوة X، و ٦ وحدات من الكعك Y.

2- إذا علمت أن سعر القهوة ٢ ريال وسعر الكعك ٤ ريال ، ودخل هيفاء في اليوم ٣٢ ريال. فما هي الكميات التوازنية التي سيشتريها المستهلك من القهوة والكعك والتي تحقق له أقصى منفعة في حدود دخلها؟ (اكتبي شرطي التوازن) شرط التوازن الأول:

$$\frac{MU_y}{P_y} = \frac{MU_x}{P_x}$$

تطبيق الشرط الأول:

$$2=2 \text{ عند } 4 \text{ من } X \text{ و } 2 \text{ من } Y.$$

$$0,5 = 0,5 \text{ عند } 6 \text{ من } X \text{ و } 5 \text{ من } Y.$$

شرط التوازن الثاني:

$$I = P_x \cdot X + P_y \cdot Y$$

تطبيق شرط التوازن الثاني:

$$- \quad (2=2) \text{ عند } 4 \text{ من } X \text{ و } 2 \text{ من } Y$$

$$(4 \times 4) + (2 \times 2) = 32$$

$$(8) + (8) = 32$$

$$32 \neq 16 \text{ لم يتحقق الشرط.}$$

$$- \quad (0,5 = 0,5) \text{ عند } 6 \text{ من } X \text{ و } 5 \text{ من } Y$$

$$(5 \times 4) + (6 \times 2) = 32$$

$$(20) + (12) = 32$$

$$32 = 32 \text{ تحقق الشرط}$$

إذًا: الكميات التوازنية لهيفاء هي ٦ من X\* و ٥\*Y.

3- إذا انخفض سعر الكعك إلى ٢ ريال، فكم ستكون الكميات التوازنية التي ستشتريها هيفاء من القهوة والكعك؟ شرط التوازن الأول:

$$\frac{MU_y}{P_y} = \frac{MU_x}{P_x}$$

تطبيق الشرط الأول:

$$3=3 \text{ عند } 2 \text{ من } X \text{ و } 4 \text{ من } Y.$$

$$1=1 \text{ عند } 5 \text{ من } X \text{ و } 5 \text{ من } Y.$$

شرط التوازن الثاني:

$$I = P_x \cdot X + P_y \cdot Y$$

تطبيق شرط التوازن الثاني:

$$- \quad (3=3) \text{ عند } 2 \text{ من } X \text{ و } 4 \text{ من } Y$$

$$(4 \times 2) + (2 \times 2) = 32$$

$$(8) + (4) = 32$$

32 ≠ 16 لم يتحقق الشرط.

- (1 = 1 عند 5 من X و 5 من Y)

$$(5 \times 2) + (5 \times 2) = 32$$

$$(10) + (10) = 32$$

32 ≠ 20 لم يتحقق الشرط

- (1 = 1 عند 8 من X و 7 من Y)

$$(7 \times 2) + (8 \times 2) = 32$$

$$(14) + (16) = 32$$

32 ≠ 30 لم يتحقق الشرط

إذاً لا توجد كميات توازنية لهيفاء من السلعتين.

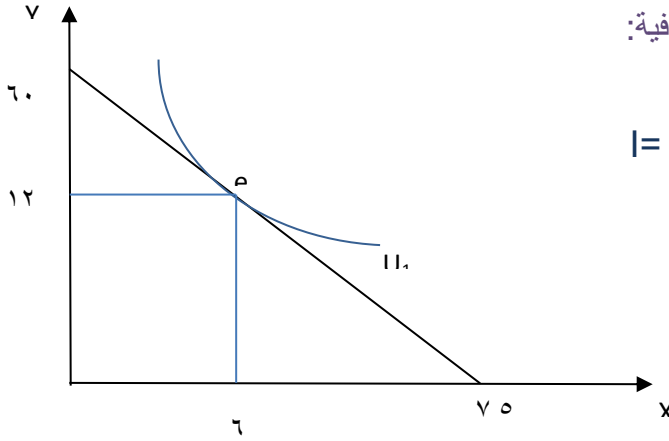
### السؤال الثاني :

يوضح الجدول التالي منحنى السواء لمحمد:

معدل الإحلال الحدي (إحلال X محل Y) $\frac{\Delta y}{\Delta x}$	البسكويت	الشاي
-	32	4
12 =   12 -   = 12 -	20	5
8 =   8 -   = 8 -	12	6
4 =   4 -   = 4 -	8	7
2 =   2 -   = 2 -	6	8

1- أوجد معدل الإحلال الحدي (MRS)؟ (الحل بالجدول – الشاي X البسكويت Y)

2- إذا علمت أن سعر الوحدة من الشاي هو ١٦ ريال، بينما سعر الوحدة من البسكويت هو ٢ ريال ، ودخل محمد هو ١٢٠ ريال في اليوم وينفقه بالكامل على السلعتين. ارسمي خط الدخل لهذا المستهلك.



ج٢: لرسم خط الدخل نحتاج للقيم الطرفية:

القيمة الطرفية للشاي X:

$$I = \frac{I}{p_x} = \frac{120}{16} = 7,5$$

القيمة الطرفية للبسكويت Y:

$$I = \frac{I}{p_y} = \frac{120}{2} = 60$$

3- أوجدي الكميات التوازنية التي تحقق للمستهلك أقصى إشباع في حدود دخله. مع توضيح ذلك على الرسم السابق

ج٣: شرط التوازن الأول:

معدل الإحلال الحدي (ميل منحنى السواء) = النسبة بين سعري السلعتين (ميل خط الدخل)

$$\frac{P_x}{P_y} = \frac{\Delta y}{\Delta x}$$

تطبيق شرط التوازن الأول:

$$\frac{P_x}{P_y} = \frac{16}{2} = 8$$

$$8 = 8$$

وهذا يتحقق عند ٦ من X و ١٢ من Y.

شرط التوازن الثاني:

$$I = P_x \cdot X + P_y \cdot Y$$

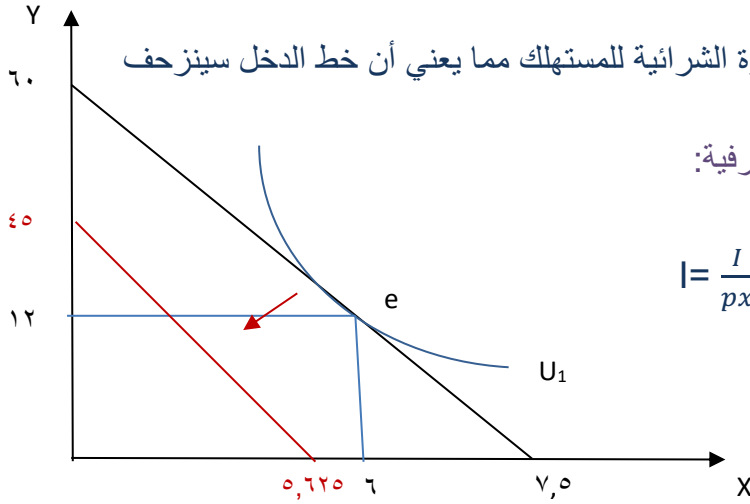
تطبيق شرط التوازن الثاني:

$$(24) + (96) = 120 \cdot (12 \times 2) + (6 \times 16) = 120$$

$$120 = 120 \text{ تتحقق الشرط}$$

إذاً: الكميات التوازنية للمستهلك هي ٦ من X\* و ١٢ من Y\*.

4- بافتراض انخفاض دخله في اليوم إلى ٩٠ ريال، وضحي أثر هذا الانخفاض على خط الدخل (رياضياً وبيانياً)، وهل يستطيع المستهلك أن يشتري السلعتين في حدود الدخل الجديد.



ج: انخفاض الدخل يقلل من القوة الشرائية للمستهلك مما يعني أن خط الدخل سينزحف لليسار بشكل موازي .  
 لرسم خط الدخل نحتاج للقيم الطرفية:  
 القيمة الطرفية للسلعة X:

$$I = \frac{I}{p_x} = \frac{90}{16} = 5,625$$

القيمة الطرفية للسلعة Y:

$$I = \frac{I}{p_y} = \frac{90}{2} = 45$$

شرط التوازن الأول لن يتغير حيث يتحقق الشرط عند ٦ من X و ١٢ من Y.

بينما سيختلف شرط التوازن الثاني:

$$I = P_x \cdot X + P_y \cdot Y$$

تطبيق شرط التوازن الثاني:

$$(12 \times 2) + (6 \times 16) = 90$$

$$(24) + (96) = 90$$

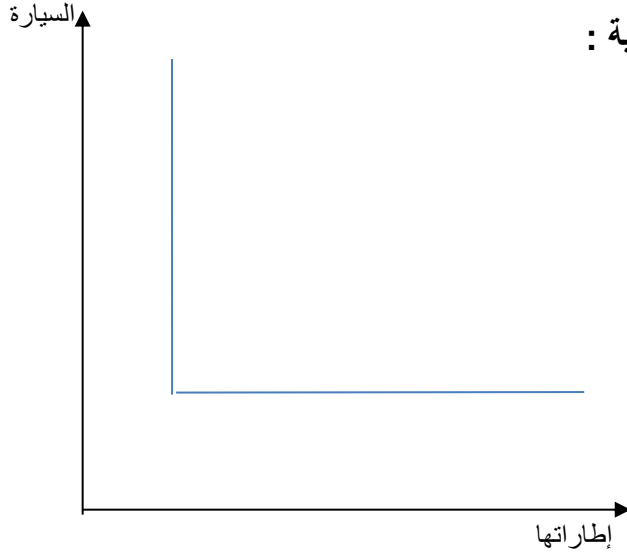
٩٠ ≠ ١٢٠ لم يتحقق الشرط

إذا لا توجد كميات توازنية للمستهلك من السلعتين، فلا يمكنه شراء ذات الكميات في حدود الدخل الجديد.

### السؤال الثالث:

وضحي بالرسم منحنى السواء في الحالات التالية :

1- تستخدم مها السيارة وإطاراتها معاً.



2- شاي (ليببتون) وشاي (الكبوس) لهما نفس التفضيل بالنسبة لـ نورة.

