

اسم المصورة : الشعبة

أجيبني على الأسئلة الآتية بعد توكلك على الله .. وسوف تكون الدرجة النهائية للاختبار من (15) درجة .

عرفي جسم آلة التصوير Camera Body ؟



.....

.....

.....

أكملي بما ترينه صحيحا مكان النقاط التالية :



1. عند زيادة فتحة العدسة أكبر قدر ممكن تزيد نسبة
2. المسئول عن كمية الإضاءة وتنشيط الحركة في الكاميرا هو
3. مؤسس كوداك هو
4. الصورة هي

اخترى الإجابات الصحيحة :



1. التحكم بعمق الميدان له وضعية مناسبة للمصور هي ..


P ☐ AV ☐ ISO ☐ C ☐ TV ☐

2. العدسة التي عادة تستخدم في التصوير الرياضي هي


50mm ☐ الواسعة ☐ المقربة ☐ الماكرو ☐ عين السمكة ☐

3. عناصر مثلث التعريض هي:

Shutter speed ☐ ISO ☐ W.B ☐ f-stop ☐ shutter ☐

سمي أنماط التصوير من خلال الرموز في الصورة أمامك .. 




ماذا يعني وجود الرقم (4 ") ضمن خيارات الكاميرا الرقمية ؟ 


.....

.....

.....

وضحي صحة العلاقات التالية بـ ☒ أو ☐ 

1. يزداد حجم الطباعة للصورة بزيادة عدد البكسل في الصورة ()
2. كلما قلّت حساسية الضوء تزيد نسبة التحجب في الصورة ()
3. كلما كبرت فتحة العدسة يكون الرقم المخصص للفتحة صغير ()
4. نحتاج لسرعة غلق بطيئة إذا صغرت فتحة العدسة حتى تكون الصورة متوازنة الإضاءة ()

اذكري ثلاثة عيوب لكاميرا من نوع DSLR .. 

1.
2.
3.

انتهت الأسئلة

إضاءة : رب عمل صغير تكثره النية و رب عمل كثير تصغره النية.. 