

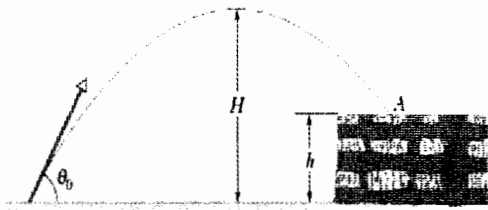
بسم الله الرحمن الرحيم
جامعة الملك سعود
كلية العلوم - قسم الفيزياء والفلك
الامتحان الفصلي الأول للمقرر 212 فيز
الفصل الدراسي الثاني للعام الدراسي 1433/1434 هـ

رقمه:

اسم الطالب:

أولاً: أجب على جميع الأسئلة التالية بوضع دائرة حول الإجابة الصحيحة 1 درجة لكل فقرة

1- يعطى موضع جسم يتحرك على محور x بالعلاقة التالية: $x = 9.75 + 1.5t^3$ حيث الزمن بالثواني والمسافة بالسنتيمترات. احسب ما يلي: (أ) متوسط السرعة v_{avg} خلال الفترة من 2 إلى 3 ثواني (ب) السرعة اللحظية عندما $t = 2s$ (ج) السرعة اللحظية عندما يكون الجسم في منتصف المسافة بين موضعه في الزمن $t = 2s$ وموضعه في الزمن $t = 3s$.



2- تقع الواحة B على الجهة الشرقية من الواحة A وعلى بعد 25 km . كان هناك جمل عند الواحة A وتحرك بقصد الذهاب إلى الواحة B فتحرك مسافة 24 km ولكن في اتجاه يصنع زاوية 15° مع اتجاه الشرق في الجهة الجنوبية. وفي نهاية هذه المسافة تحرك 8 km باتجاه الشمال تماماً. كم تصبح المسافة بينه وبين الواحة B في نهاية رحلته؟ (4)

3- بحسب الشكل المرفق: تم رمي حجر باتجاه تُل ارتفاعه h بسرعة ابتدائية مقدارها 42 m/s وبزاوية مقدارها 60° بالنسبة لمحور x الموجب. إذا علمت بأن الحجر وصل إلى النقطة A المبيّنة في الشكل بعد 5.5 s فاحسب: (أ) ارتفاع التل h (ب) مقدار سرعة الحجر لحظة وصوله إلى النقطة A (ج) الارتفاع الأقصى H خلال هذه الرحلة. (1)

4- تم رمي كرة في الهواء ابتداءً من سطح الأرض. إذا علمت بأن سرعة الكرة عندما كانت على ارتفاع 9.1 m تعطى بالعلاقة التالية: (أ) احسب الارتفاع الأقصى الذي تصل إليه الكرة (ب) احسب المسافة الأفقية الكلية التي تقطعها الكرة حتى تصل للأرض (ج) احسب مقدار واتجاه سرعة الكرة لحظة وصولها إلى الأرض (الاتجاه بالنسبة لمحور x الموجب). (1)

5- (أ) قم باشتقاق معادلة المسار للمقذوفات

(ب) أثبت أن المعادلة التالية صحيحة من حيث الأبعاد: $v^2 = v_0^2 + 2ax$ حيث تمثل v و v_0 السرعات و a التسارع و x المسافة

$$x = 9.75 + 1.5t^3 \quad \text{المعادلة الأولى}$$

a) Find \bar{v} for $t = 2 \rightarrow 3$ s

$$\therefore \bar{v} = \frac{\Delta x}{\Delta t} = \frac{x_f - x_i}{\Delta t} = \frac{x(3) - x(2)}{\Delta t}$$

$$\therefore x(3) = 9.75 + 1.5(27) = 50.25 \text{ cm}$$

$$x(2) = 9.75 + 1.5(8) = 21.75 \text{ cm}$$

$$\therefore \bar{v} = \frac{50.25 - 21.75}{1} = 28.5 \text{ cm/s} \quad \#$$

b) $\therefore v(t) = \frac{dx}{dt} = 0 + 4.5t^2$

$$\therefore v(2) = 4.5 \times 4 = 18 \text{ cm/s} \quad \#$$

c) $\therefore x(3) = 50.25$

$$x(2) = 21.75$$

المسافة المقطوعة

$$x_{1/2} = \frac{50.25 + 21.75}{2} = 36 \text{ cm}$$

لأنه الزمان نفسه والمسافة

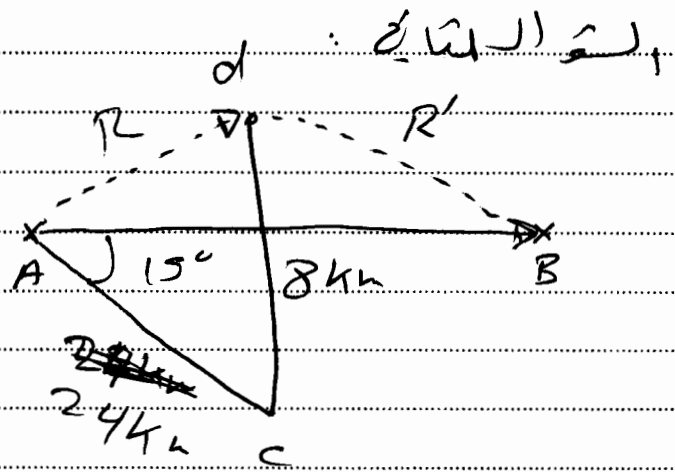
$$36 = 9.75 + 1.5t^3$$

$$\rightarrow 1.5t_{1/2}^3 = 36 - 9.75$$
$$= 26.25$$

$$\therefore t_{1/2} = \sqrt[3]{\frac{26.25}{1.5}} = 2.6 \text{ s}$$

$$\therefore v(2.6) = 4.5(2.6^2)$$

$$= 30.4 \text{ cm/s} \quad \#$$



Step #1: Find R_x

$$\begin{aligned} R_x &= AC_x + cd_x \\ &= 24 \cos 15 + 0 = 23.2 \text{ km} \end{aligned}$$

Step #2: Find R_y :


$$\begin{aligned} R_y &= AC_y + cd_y \\ &= -6.21 + 8 = +1.79 \text{ km} \end{aligned}$$

Step #3: Find R

$$R = \sqrt{R_x^2 + R_y^2} = \sqrt{23.2^2 + 1.79^2}$$

$$\therefore R = 23.27 \text{ km} \quad \text{--- (1)}$$

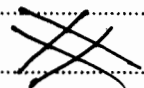
المسألة ١١



2.5 - R_y 3 kN 1.8 km 30°

$$\therefore R' = \sqrt{1.79^2 + 1.8^2}$$

$$= 2.54 \text{ km}$$





a) Find h : \therefore $v_i = 42 \text{ m/s}$

$$\therefore y = v_{iy}t - \frac{1}{2}gt^2$$

$$\therefore h = v_i \sin 60 t - \frac{1}{2}gt^2 \\ = 42 \sin 60 - \frac{1}{2} \times 9.8 (5.5^2)$$

$$\therefore h = 42 \sin 60 (5.5) - \frac{1}{2} \times 9.8 (5.5)^2 \\ = 51.8 \text{ m} \quad \#$$

$$b) \therefore v = \sqrt{v_{xf}^2 + v_{yf}^2}$$

$$\therefore v_{xf} = v_{xi} = v_i \cos 60 = 42 \times \cos 60 \\ = 21 \text{ m/s}$$

$$v_{yf} = v_{yi} - gt \\ = v_i \sin 60 - 9.8t$$

$$\therefore v_{yf} = 42 \times \sin 60 - 9.8(5.5) \\ = -17.5 \text{ m/s} \downarrow$$

$$\therefore v_A = \sqrt{21^2 + 17.5^2} = 27.3 \text{ m/s} \quad \#$$

$$c) \therefore H = \frac{v_i^2 \sin^2 \theta}{2g} \\ = \frac{42^2 \sin^2 60}{2 \times 9.8}$$

$$\therefore H = 67.5 \text{ m} \quad \#$$

السؤال الرابع : $v = 7.6 \hat{i} + 6.1 \hat{j}$

a) $\therefore v_{fy}^2 = v_{iy}^2 - 2 \times g \times y$
 $\therefore 0 = (6.1)^2 - 2 \times 9.8 \times y$

$\therefore y = 1.898 \text{ m}$

$\therefore y_{tot} = 1.898 + 9.1 = 11 \text{ m}$

b) كتبت ز من النزول فقط من اى ارتفاع

$\therefore y = v_{iy} t - \frac{1}{2} g t^2$

$\rightarrow -11 = 0 - \frac{1}{2} \times 9.8 t^2$

في -11 بسبب ان ارتفاعه من اى ارتفاع الى اى ارتفاع
 $v_{iy} = v_{if}$ (اى كى فقط)

$\therefore t = \sqrt{\frac{2 \times 11}{9.8}} = 1.5 \text{ sec}$

$\therefore \text{tot time} = 3 \text{ sec}$

$\therefore x = v_{ix} t = 7.6 (3) = 22.8 \text{ m}$
 $\equiv R$

c) $v = \sqrt{v_x^2 + v_y^2}$

$\therefore v_{xf} = v_{xi} = 7.6 \text{ m/s}$

بسبب v_{yf} يتناقص من اى ارتفاع الى اى ارتفاع

$\therefore v_{yf} = v_{yi} - 9.8 t$

$\rightarrow v_{yf} = 0 - 9.8 (1.5) = -14.7 \downarrow$

$\therefore v_f = \sqrt{7.6^2 + 14.7^2} = 16.6 \text{ m/s}$

at $\theta = \tan^{-1} \left(\frac{v_{yf}}{v_{xf}} \right) = \tan^{-1} \left(\frac{-14.7}{7.6} \right)$

سؤال الثاني

a) $x = v_i \cos \theta_i t \quad \text{--- (1)}$

$y = v_i \sin \theta_i t - \frac{1}{2} g t^2 \quad \text{--- (2)}$

(1) $\rightarrow t = \frac{x}{v_i \cos \theta_i} \quad \text{--- (3)}$

(3) in (2):

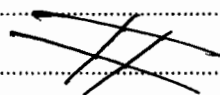
$$y = v_i \sin \theta_i \left[\frac{x}{v_i \cos \theta_i} \right] - \frac{1}{2} g \left[\frac{x^2}{v_i^2 \cos^2 \theta_i} \right]$$

$$\therefore y = \underbrace{\tan \theta_i}_{a} \cdot x - \underbrace{\frac{g}{2 v_i^2 \cos^2 \theta_i}}_b \cdot x^2$$

$\therefore y = ax - bx^2$

و ل b غير معرفة

$\therefore y = ax + b^x$



و لا يمكن معرفة b

b) $v^2 = v_0^2 + 2ax$

$$\begin{aligned} \rightarrow \frac{L^2}{T^2} &= \frac{L^2}{T^2} + 2 \frac{L}{T^2} \cdot L \\ &= \frac{L^2}{T^2} + \frac{L^2}{T^2} \\ &= \frac{L^2}{T^2} \end{aligned}$$

$\therefore L.H.S = R.H.S$

