


البواجب

ما نوع الوضع المشيمي في الصور التالية ؟



Marginal



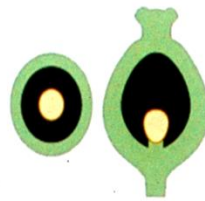
Axile




Parietal



Free-central



Basal



Basal