

Physics and Astronomy Department
College of Sciences-King Saud University
Phys 104, Midterm Exam #2, First Semester 5/02/1434 H

الرقم الجامعي:	اسم الطالب:
الشعبية:	اسم عضو هيئة التدريس:

$k = 9 \times 10^9 \text{ N.m}^2/\text{C}^2$,	$\epsilon_0 = 8.85 \times 10^{-12} \text{ C}^2/\text{N.m}^2$,	$ e = 1.6 \times 10^{-19} \text{ C}$,	$G = 6.67 \times 10^{-11} \text{ N.m}^2/\text{kg}^2$
$m_p = 1.67 \times 10^{-27} \text{ kg}$,	$m_e = 9.11 \times 10^{-31} \text{ kg}$,	$g = 9.8 \text{ m/s}^2$,	$\mu_0 = 4\pi \times 10^{-7} \text{ T.m/A}$

Choose the Correct Answer

Exam Duration: One and a half Hours

All Answers are given in MKS
unless the unit is stated

س1- تبلغ سعة مكثف بدون وجود مادة عازلة بين نهايتيه 5 mF . ما مقدار سعته عند وضع مادة عازله ثابت عزلها $K = 2.6$ وشدة عزلها $E_{max} = 2 \times 10^6 \text{ N/C}$ ؟

Q1- For a capacitor of 5 mF without a dielectric, what would be the capacitance if a dielectric of $K = 2.6$ and strength (E_{max}) of $2 \times 10^6 \text{ N/C}$ is inserted between its electrodes?

- A) 2.4 B) 0.013 C) 10^7 D) 4×10^5

س2- إذا كانت الطاقة المخزونة في مكثف عندما يكون فرق الجهد بين طرفيه 100 V تساوي 0.1 J فإن الطاقة المخزونة عند جهد 200 V تساوي:

Q2- If the stored energy in a capacitor having potential difference of 100 V is 0.1 J , the stored energy for a potential difference of 200 V is:

- A) 0.025 B) 0.05 C) 0.4 D) 1.6

س3- يمر مليوناً بروتون في منطقة ما خلال $20 \mu\text{sec}$ من ذلك فإن التيار الكهربائي الناشئ هو:

Q3- Two million protons pass an area in $20 \mu\text{sec}$, the electric current is:

- A) 16×10^{-9} B) 3.2×10^{-6} C) 3.3×10^{-3} D) 8

س4- إذا تضاعف التيار في موصل وكذلك مساحة المقطع فإن السرعة الانسيابية تكون:

Q4- If the current in a conductor is doubled as well as the conductor cross-sectional area, the drift velocity is:

- A) reduced to half B) doubled C) constant D) increased 4 times

س5- يمر تيار كهربائي من خلال مقاومة قدرها 20Ω فينشأ فرق جهد على طرفيها قدره 12 V . مقدار التيار هو:

Q5- When electric current passes through a resistor of 20Ω , voltage of 12 V is measured across its ends. The electric current equals:

- A) 220 B) 1.66 C) 0.6 D) 0.044

س6- ربطت ثلاث مقاومات متماثلة، قدر كل واحدة $3R$ ، مع بعض فولتت مقاومة مكافئة قدرها $2R$. أي الدوائر الاتية تبين طريقة ربطها؟

Q6- Three identical resistors, each of R resistance, are combined to produce equivalent resistance of $2R$. Which of the following circuits does show the way of their combination?



س7- مقاومة قدرها 3Ω عند درجة حرارة الصفر المئوي و 8.5Ω عند $150^\circ C$. مقدار المقاومة عند درجة حرارة $100^\circ C$ يساوي:
 Q7- A resistor of 3Ω at $0^\circ C$ has resistance of 8.5Ω at $150^\circ C$. Its resistance at $T = 100^\circ C$ is:

- A) 6.67 B) 5.17 C) 4.02 D) 3.23

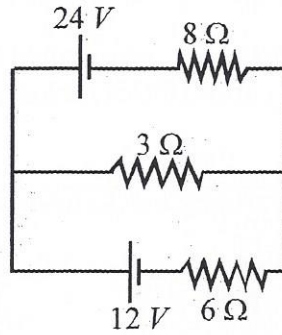
س8- ما مقدار تكلفة استخدام مصباح كهربى قدرته $200 W$ لمدة سنة (360 يوم) بالريال السعودى إذا علمت أن تكلفة الكيلوواط ساعة خمس هلالات؟

Q8- What is the cost, in Saudi Riyals, of using a $200 W$ lamp continuously for a period of one year (360 Days), knowing the cost of $1 kWh$ is $0.05 SR$?

- A) 1500 B) 86.4 C) 86400 D) 1.5

س9- ما مقدار التيار المار في المقاومة 8Ω ؟

Q9- What is the current passing through the resistor of 8Ω ?



- A) 0.66 B) 2 C) 2.66 D) 3.36

س10- ما مقدار محصلة مجالين مغناطيسيين متعامدين عند نقطة إذا كان مقدار كل منهما $5 T$ ؟

Q10- What is the magnitude of two perpendicular magnetic fields at a point if the magnitude of each is $5 T$?

- A) 0 B) 7.1 C) 10 D) 13.7

س11- يؤثر مجال مغناطيسى شدته $20 T$ على شحنة قدرها $5 nC$ تتحرك بسرعة $50 m/s$ باتجاه المجال بقوة قدرها:

Q11- A magnetic field of $20 T$ is acting on a charge of $5 nC$ having a velocity $50 m/s$ parallel to the field with force of:

- A) 0 B) 2.5×10^{-9} C) 5×10^{-6} D) 20×10^{-3}

س12- تتناسب القوة المغناطيسية المؤثرة على تيار يمر في سلك مستقيم يصنع زاوية قدرها θ مع المجال طرديا مع:

Q12- The magnetic force acting on current passing through a straight wire tilted with an angle θ relative to the field is proportional to:

- A) $\cos(\theta)$ B) $\tan(\theta)$ C) $\cot(\theta)$ D) $\sin(\theta)$

س13- الطاقة المستهلكة في مقاومة قدرها 3Ω يمر فيها تيار قدره $10 A$ لمدة دقيقة هي:

Q13- The energy delivered to a resistor of 3Ω with a current passing through of $10 A$ for one minute is:

- A) 30 B) 300 C) 1800 D) 18000



لا يكتب في هذا الهامش

$$k = \frac{C}{C_0} \Rightarrow C = kC_0 \quad \therefore C = (2.6)(5 \times 10^{-3}) = 0.013 \text{ F}$$

$$U = \frac{1}{2} CV^2 \quad \therefore C = \frac{2(0.1)}{(100)^2} = 20 \times 10^{-6} \text{ F}$$

$$U = \frac{1}{2} (20 \times 10^{-6})(200)^2 = 0.4 \text{ J}$$

$$I = \frac{\Delta Q}{\Delta t} = \frac{(2 \times 10^{-6})(1.6 \times 10^{-19})}{20 \times 10^{-6}} = 16 \times 10^{-9} \text{ A}$$

$I = n e v A$ إذا تضاعف التيار بمعدل وكثرت مساحة المقطع فإن السرعة الانسيابية تكون ثابتة constant

$$I = \frac{V}{R} = \frac{12}{20} = 0.6 \text{ A}$$

$$R_1 = 3R + 3R = 6R$$

$$\frac{1}{R_{eq}} = \frac{1}{6R} + \frac{1}{3R} = \frac{1+2}{6R} = \frac{3}{6R}$$

$$R_{eq} = 2R$$

$$\alpha = \frac{1}{R_0} \left(\frac{\Delta R}{\Delta T} \right)$$

$$\therefore \frac{8.5 - 3}{150 - 0} = \frac{R - 3}{100 - 0}$$

$$(R - 3)(150) = 5.5 \times 100 \quad \therefore R = 6.67 \Omega$$

$$\text{Cost} = \left(\frac{200}{1000} \text{ kW} \right) (360 \times 24 \text{ h}) \left(\frac{5}{100} \right) = 86.4 \text{ Riyals}$$

$$I_3 = I_1 + I_2 \quad \text{①} \quad 24 = 8I_1 + 3I_3$$

loop 1

$$24 = 8I_1 + 3(I_1 + I_2) = 11I_1 + 3I_2 \quad \text{②}$$

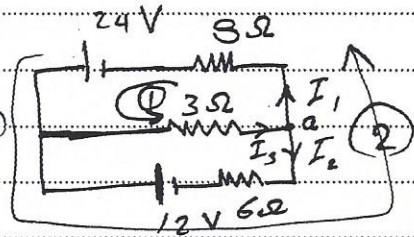
loop 2

$$24 - 12 = 8I_1 - 6I_2$$


$$12 = 8I_1 - 6I_2$$

$$6 = 4I_1 - 3I_2 \quad \text{③}$$

$$30 = 15I_1 \quad \therefore I_1 = 2 \text{ A}$$



$$B = \sqrt{(5)^2 + (5)^2} = \sqrt{50} = 7.1 \text{ T}$$



الزاوية بين المجال المغناطيسي B على اتجاهه q وتكون سرعة v باتجاه المجال بقوة قدرها $qv \sin \theta$ في اتجاه القوة المغناطيسية المتجهة على تيار i يمر في سلك مستقيم يصنع زاوية θ مع المجال

$$F = qvB \sin \theta \quad \text{لأن} \quad \sin \theta = \frac{v}{B}$$

$$U = Pt = Ivt = I^2 R t = (10)^2 (3) (60)$$

$$U = 18000 \text{ J}$$



لا يكتب في هذا الهامش

$$k = \frac{C}{C_0}, \quad C_0 = \frac{C}{5}$$

الطاقة المخزنة $U_e = \frac{1}{2} C_0 E^2 = (\frac{1}{2}) (8.85 \times 10^{-12}) (10^6)^2 = 4.42 \text{ J/m}^3$

$$I = \frac{q}{t} = \frac{(2 \times 1000) (1.6 \times 10^{-19})}{2 \times 10^{-12}} = 1.6 \times 10^{-4} \text{ A} = 160 \mu\text{A}$$

$$J = \sigma E, \quad \frac{I}{A} = \frac{E}{S} \quad \therefore A = \frac{I S}{E} = \frac{(6.4)(0.2)}{10^4}$$

$$A = 8 \times 10^{-6} \text{ m}^2 = 8 \text{ mm}^2$$

$$\alpha = \frac{1}{R_0} \frac{\Delta R}{\Delta T}, \quad 0.005 = \frac{1}{R_0} \frac{40}{150}$$

$$R_0 = \frac{40}{0.005 \times 150} = 53.3 \Omega$$

$$t = 3 \times 30 \times 24 \text{ h}, \quad P = 20 \times 80$$

$$U = Pt \quad \text{Cost} = \left(\frac{20 \times 80}{1000} \right) (3 \times 30 \times 24) \left(\frac{5}{100} \right)$$

$$\text{Cost} = 172.8 \text{ Riyals}$$

$$\frac{1}{R_1} = \frac{1}{2R} + \frac{1}{4R} + \frac{1}{6R} = \frac{6+3+2}{12R} = \frac{11}{12R} \quad \therefore R_1 = \frac{12}{11} R$$

$$R_2 = R + \frac{12}{11} R = \frac{23}{11} R$$

$$\frac{1}{R_3} = \frac{1}{R} + \frac{11}{23R} = \frac{23+11}{23R} = \frac{34}{23R}$$


$$R_3 = \frac{23}{34} R$$

$$\frac{1}{R_4} = \frac{1}{2R} + \frac{1}{6R} = \frac{3+1}{6R} = \frac{4}{6R}$$

$$R_4 = \frac{3}{2} R$$

$$R_{eq} = (0.676 + 1.5) R$$

$$= 2.18 R$$

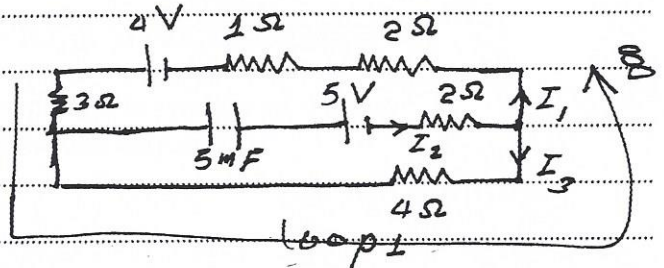


$$I_2 = I_1 + I_3 = 0 \quad \therefore I_1 = -I_3$$

$$\text{loop 1} \quad \sum \mathcal{E} = \sum IR$$

$$4 = 3I_1 - 4I_3 + 2I_1 + I_1$$

$$4 = 6I_1 - 4(-I_1) = 6I_1 + 4I_1 = 10I_1 \quad \therefore I_1 = \frac{4}{10} = 0.4 \text{ A}$$



$$\frac{F}{q} = BI \quad \therefore B = \frac{F/q}{I} = \frac{30 \times 10^{-3}}{15 \times 10^{-3}} = 2 \text{ Tesla}$$

نلاحظ أن السعة المتحركة سالبة فإن اتجاه القوة الطغائية يكون نحو الأسفل وكذلك القوة الكهربائية نحو الأسفل إذاً اتجاه قوة لورنتز $\vec{F} = q(\vec{E} + \vec{v} \times \vec{B})$ يكون نحو الأسفل